



Kokeessa saa vastata enintään kymmeneen tehtävään. Tähdellä (*) merkittyjen tehtävien maksimipistemäärä on 9, muiden tehtävien maksimipistemäärä on 6.

1. Ratkaise yhtälöt

a) $x^2 - x - 6 = 0$

b) $\frac{x}{6} - \frac{x-3}{2} - \frac{7}{9} = 0$

c) $\frac{x}{2} - \frac{2}{x} = 0$

2. a) Laske lausekkeen $\frac{15}{4} - \left(\frac{6}{3}\right)^2$ arvo.

b) Laske lausekkeen $\sqrt{6 \cdot (3!)} - 6$ arvo.

c) Sievennä lauseke $\ln \frac{x}{2} + \ln 2$.

d) Sievennä lauseke $\sin^2 x + \cos^2(x + 2\pi)$.

e) Laske integraali $\int_0^1 (x+1) dx$.

f) Laske funktion $f(x) = 4e^{2x}$ derivaatta kohdassa $x = 0$.

3. Näytä, että pisteet $A = (2,1)$, $B = (4,0)$ ja $C = (5,7)$ ovat suorakulmaisen kolmion kärjissä.

4. Määritä kaikki vektorit $\vec{a} = x\vec{i} + y\vec{j} + z\vec{k}$, joiden pituus on $\sqrt{22}$ ja joiden kohtisuora projektiio xy -tasolle on vektori $2\vec{i} + 3\vec{j}$.

5. Määritä funktion $f(x) = \frac{\ln x}{x}$ suurin arvo, kun $x > 0$.

6. Ringettejoukkueen kolmen hyökkääjän todennäköisyydet tehdä maali rangaistuslaukauksella ovat 65 %, 75 % ja 54 %. Kukin kolmesta hyökkääjästä saa yhden yrityksen.

a) Millä todennäköisyydellä ainakin yksi hyökkääjä tekee maalin?

b) Laske rangaistuslaukausmaalien lukumäärän odotusarvo.

7. Olkoon $t > 0$. Paraabeli $y = ax^2 + bx + c$ kulkee pisteen $\left(0, \frac{1}{t}\right)$ kautta ja sivuaa x -akselia pisteessä $(t, 0)$.
- a) Määritä kertoimet a , b ja c parametrin t avulla lausuttuna.
- b) Näytä, että paraabelin ja koordinaattiakselien rajoittaman alueen pinta-ala ei riipu parametrin t arvosta.

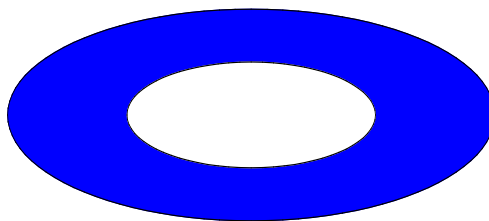
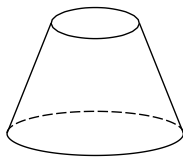
8. Eräessä huippuyliopistossa on 5 000 opiskelijaa, joista yksi sairastuu hiihtolomalta palattuaan influenssaan. Virus alkaa levitä kampuksella, ja siihen sairastuneiden opiskelijoiden lukumäärää kuvaa funktio

$$f(t) = \frac{5000}{1 + 4999e^{-0,8t}},$$

jossa aika $t \geq 0$ lasketaan vuorokausina ensimmäisestä sairastumisesta alkaen.

- a) Luennot peruutetaan, jos yli 50 % opiskelijoista on sairaana. Kuinka monen vuorokauden kuluttua ensimmäisestä sairastumisesta näin tapahtuu?
- b) Näytä, että $f(t)$ on kasvava funktio, kun $t > 0$.
- c) Laske $\lim_{t \rightarrow \infty} f(t)$.

9. Suoran ympyräkartion korkeus on 5,0 cm, ja sen pohjan säde on 2,0 cm. Kartio katkaistaan niin, että yläreunan säde on 1,0 cm. Tämän jälkeen katkaistun kartion vaippa maalataan siniseksi ja sitä pyöritetään kyljellään paperilla. Määritä näin saadun sinisen rengasalueen pinta-ala yhden neliösenttimetrin tarkkuudella.




10. Ratkaise yhtälöt

a) $3 \tan \frac{x}{2} + 3 = 0$

b) $2 \sin^2 x + 3 \cos x - 3 = 0$

11. Tasasivuisen kolmion K_1 sivun pituus on a . Sen sisään asetetaan ympyrä Y_1 , joka sivuaa kolmion kylkiä. Tämän ympyrän Y_1 sisään asetetaan tasasivuinen kolmio K_2 , jonka kärjet ovat ympyrällä Y_1 . Jatkamalla näin saadaan oheisen kuvan mukainen päättymätön jono ympyröitä Y_1, Y_2, \dots . Laske ympyröiden pinta-alojen summa.



12. Tuotteen hinta- ja muut tiedot voidaan tallentaa viivakoodiin (UPC = Universal Product Code). Numeerisessa muodossa viivakoodi on lukujono $(d_1, d_2, \dots, d_{12})$, jossa kukin $d_i \in \{0, 1, 2, \dots, 9\}$. Viimeinen luku d_{12} on tarkistusmerkki, joka määräytyy ehdosta

$$3(d_1 + d_3 + d_5 + d_7 + d_9 + d_{11}) + d_2 + d_4 + d_6 + d_8 + d_{10} + d_{12} \equiv 0 \pmod{10}.$$

- a) Tuotteen viivakoodi on $(1, 4, 2, 6, 8, 2, 5, 9, 0, 3, 2, d_{12})$. Mikä on tarkistusmerkki d_{12} ?
- b) Näytä, että viivakoodi $(1, 2, 3, 4, 5, 6, 7, 8, 9, 1, 2, 3)$ on virheellinen.
- c) Määritä b-kohdan oikea koodi, kun tiedetään, että virhe on kolmannessa merkissä.



Esimerkki viivakoodista

<<http://en.wikipedia.org/wiki/Barcode>>. Luettu 29.3.2011.

13. Funktioiden $f(x) = 1 - x$ ja $g(x) = 3 \cos x$ kuvaajilla on kolme leikkauspistettä. Laske niiden koordinaateille kaksidesimaaliset likiarvot valitsemallasi numeerisella menetelmällä.

*14. Hyperbolinen kosini $\cosh x$ ja hyperbolinen sini $\sinh x$ määritellään kaavoilla

$$\cosh x = \frac{1}{2}(e^x + e^{-x}) \quad \text{ja} \quad \sinh x = \frac{1}{2}(e^x - e^{-x}),$$

kun $x \in \mathbf{R}$.

a) Näytä, että $(\cosh x)^2 - (\sinh x)^2 = 1$ kaikilla $x \in \mathbf{R}$. (2 p.)

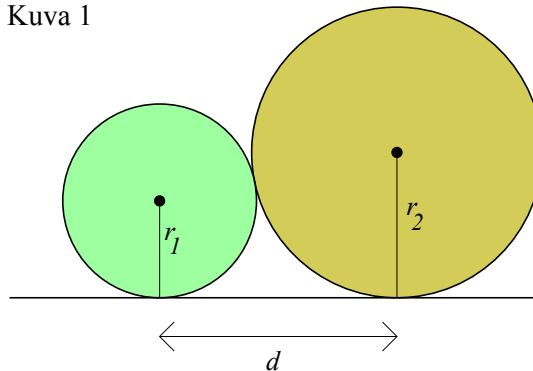
b) Näytä, että $\frac{d}{dx}(\sinh x) = \cosh x$. (2 p.)

c) Näytä, että funktiolla $\sinh x$ on käänteisfunktio, ja määritä sen lauseke logaritmin avulla lausuttuna. (3 p.)

d) Mikä on c-kohdan käänteisfunktion määrittelyjoukko? (2 p.)

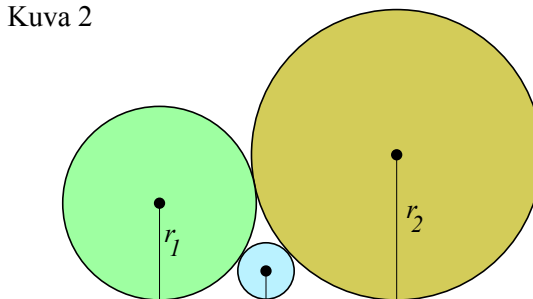
*15. a) Kaksi ympyrää sivuaa toisiaan ja x -akselia kuvan 1 mukaisesti. Määritä ympyröiden keskipisteiden vaakasuora etäisyys d niiden säteiden avulla lausuttuna. (3 p.)

Kuva 1



b) Kolme ympyrää sivuaa toisiaan ja x -akselia kuvan 2 mukaisesti. Määritä keskimmäisen ympyrän säde r_3 kahden reunimmaisen ympyrän säteiden avulla lausuttuna. (3 p.)

Kuva 2



c) Todista René Descartesin (1596–1650) keksimä b-kohdan ympyröihin liittyvä kaava

$$(k_1 + k_2 + k_3)^2 = 2(k_1^2 + k_2^2 + k_3^2),$$

jossa $k_i = \frac{1}{r_i}$, $i = 1, 2, 3$. (3 p.)